

УНИВЕРЗИТЕТ У НИШУ
ГРАЂЕВИНСКО
АРХИТЕКТОНСКИ
ФАКУЛТЕТ



Студијски програм ИАС АРХИТЕКТУРА

П Р И Ј Е М Н И И С П И Т 2 0 1 5

**ТЕСТ ОПШТЕ КУЛТУРЕ И ОБРАЗОВАЊА,
СА ЕЛЕМЕНТИМА
ТЕСТА ПРОСТОРНЕ ИНТЕЛИГЕНЦИЈЕ**

НИШ, 02. 07. 2015. године

УПУТСТВО ЗА КАНДИДАТЕ О НАЧИНУ ПОЛАГАЊА ПРИЈЕМНОГ ИСПИТА

- Кандидат који приступа полагању пријемног испита дужан је да код себе има важећу личну карту или важећи пасош. Кандидати који приступају полагању испита са пасошем, дужни су да додатно имају и други документ, у коме ће се налазити јединствени матични број грађана (ЈМБГ).
- Кандидат је дужан да седне на одређено место, на које га упућује дежурни. Кандидат на своје место може да понесе само важећи документ за идентификацију, хемијску оловку плаве боје и флашицу воде.
- Кандидат мора, на захтев, показати важећу личну карту, односно пасош.
- По завршетку идентификације, лична карта, односно пасош остаје на столу до завршетка испита.
- Испит је писмени, у облику теста и траје 2 (два) сата.
- Свеску са питањима за израду теста кандидат добија од дежурног. На крају свеске (последњи лист) налази се **лист за одговоре** (у даљем тексту: **ЛО**). Све одговоре на питања кандидати дају искључиво у **ЛО** обрасцу!
- У **ЛО**-у се хемијском оловком плаве боје обележавају само тачни одговори прецртавањем одговарајућих поља. Пример обележавања тачних одговора приказан је на следећој слици!

ОДГОВОРИ:					
	А	Б	В	Г	Д
1	<input type="checkbox"/>	<input checked="" type="checkbox"/>	<input type="checkbox"/>	<input type="checkbox"/>	<input type="checkbox"/>
2	<input type="checkbox"/>	<input type="checkbox"/>	<input type="checkbox"/>	<input checked="" type="checkbox"/>	<input type="checkbox"/>
3	<input type="checkbox"/>	<input type="checkbox"/>	<input checked="" type="checkbox"/>	<input type="checkbox"/>	<input type="checkbox"/>
4	<input type="checkbox"/>	<input type="checkbox"/>	<input checked="" type="checkbox"/>	<input type="checkbox"/>	<input type="checkbox"/>
5	<input type="checkbox"/>	<input type="checkbox"/>	<input type="checkbox"/>	<input type="checkbox"/>	<input checked="" type="checkbox"/>
6	<input checked="" type="checkbox"/>	<input type="checkbox"/>	<input type="checkbox"/>	<input type="checkbox"/>	<input type="checkbox"/>
7	<input type="checkbox"/>	<input checked="" type="checkbox"/>	<input type="checkbox"/>	<input type="checkbox"/>	<input type="checkbox"/>
8	<input type="checkbox"/>	<input type="checkbox"/>	<input type="checkbox"/>	<input checked="" type="checkbox"/>	<input type="checkbox"/>
9	<input type="checkbox"/>	<input type="checkbox"/>	<input checked="" type="checkbox"/>	<input type="checkbox"/>	<input type="checkbox"/>
10	<input type="checkbox"/>	<input type="checkbox"/>	<input type="checkbox"/>	<input type="checkbox"/>	<input checked="" type="checkbox"/>

Слика 1. Део обрасца **ЛО**.

Правилно обележавање тачних одговора прецртавањем одговарајућих поља:

*вертикално – редни број питања;

*хоризонтално – понуђени одговори.

- Кандидат прецртава поље само једног од понуђених одговора у **ЛО**-у, под бројем који одговара редном броју тог питања.
- Сваки тест има 72 питања и сваки тачан одговор се бодује једним бодом.
- На пријемном испиту се може освојити максимално 60 бодова.
- Упозоравају се кандидати да **ЛО** образац попуњавају врло пажљиво.
- За свако питање понуђено је 5 (пет) одговора, од којих је само један тачан. Одговарајуће обележавање тачног одговора доноси један бод.
- Обележавање нетачног одговора, необележавање одговора, као и обележавање више одговора у оквиру истог питања доноси нула (0) бодова.
- На **ЛО**-у није дозвољено брисање или исправљање већ обележених одговора.
- Најстрожије је забрањено потписивање или било какво друго обележавање **ЛО**-а. Кандидат који на било који начин додатно означи **ЛО**, биће дисквалификован.
- Од тренутка поделе тестова није дозвољен никакав разговор између кандидата. На испиту је строго забрањено коришћење било каквих додатних помагала (џепни рачунар, мобилни телефон, таблет, слушалице и друга информационо-комуникациона средства, лењир, цедуљице и сл.). У току полагања пријемног испита, кандидати не смеју имати код себе мобилне телефоне.
- Дежурни не могу давати никакве информације о задацима. Није дозвољен разговор између кандидата и дежурног.
- Из коверте коју сте добили извадите цедуљу и на њој штампаним словима упишите: **презиме, име једног од родитеља (са пријаве), име и редни број пријаве.**
- Предаје се само лист са одговорима и коверта са попуњеном цедуљом.
- Приликом предаје листа са одговорима (образац **ЛО**) коверта мора бити затворена и причвршћена за лист са одговорима.
- У случају да два или више кандидата имају једнак број бодова, на коначној ранг листи, предност ће имати кандидати са више освојених бодова на питањима од броја 52 до броја 72 (тест просторне интелигенције).

Пријемни испит почиње у 10,00 часова и траје до 12,00 часова.

Молимо Вас да се приликом полагања пријемног испита придржавате наведених упутстава. Непоштовање неког од наведених правила повлачи за собом дисквалификацију кандидата без обзира на претходно освојене поене!

Свим кандидатима желимо много успеха на испиту!

Студијски програм ИАС АРХИТЕКТУРА

П Р И Ј Е М Н И И С П И Т 2 0 1 5

ПИТАЊА

1. Владимир Величковић је познати :

- А сликар
- Б астроном
- В гуслар
- Г археолог
- Д урбаниста

2. Музеј Ермитаж се налази у:

- А Паризу
- Б Кану
- В Берлину
- Г Санкт Петербургу
- Д Кијеву

3. Кад кажемо „вечни град“, мислимо на:

- А Париз
- Б Рим
- В Берлин
- Г Лондон
- Д Копенхаген

4. Пацифисти се залажу за:

- А мир
- Б забрану лова на китове
- В забрану пушења
- Г заштиту животне средине
- Д независност

5. Кроки је:

- А јело од кромпира
- Б стил у одевању
- В једноставна скица
- Г правац у сликарству
- Д врста коже

6. Пејзаж је:

- А сликарска техника
- Б уметнички правац
- В врста материјала
- Г слика предела
- Д тонски запис

7. Лепенски Вир је праисторијско налазиште које се налази:

- А на обали Велике Мораве
- Б на обали Дунава
- В на обали Вардара
- Г на обали Саве
- Д на обали Мораче

8. Шта су одеони?

- А библиотеке
- Б војни чиновни
- В брста храма
- Г простори за музичке приредбе
- Д музеји

9. Розета је:

- А кружни прозор на готичким катедралама
- Б стилски ред у античкој Грчкој
- В горњи део стуба
- Г стил у сликарству
- Д завршни део крова

10. Чувени архитекта Антонио Гауди је живео и радио у?

- А Севиљи
- Б Мадриду
- В Барселони
- Г Риму
- Д Паризу

11. Ротонда је:

- А Силос
- Б Холски простор
- В Предпростор у позоришту
- Г Складиште
- Д Цилиндрична грађевина

12. Трем је:

- А Наткривени отворени простор уз објекат
- Б Врста камена
- В Конструктивни елемент
- Г Сликарска техника
- Д Економска просторија у кући

13. Обелиск је:

- А Високи камени монолит у старом Египту
- Б Јунак из цртаног филма
- В Начин зиданја у антици
- Г Декоративни елемент на фасади
- Д Ораторијум

14. Слеме је:

- А Врх крова
- Б Почетак крова
- В Лимени опшив
- Г Део олука
- Д Прозорски оков

15. Атријум је:

- А Унутрашње двориште
- Б Кровна греда
- В Легура бакра
- Г Декоративни елемент
- Д Уметнички правац

16. Урбанизам се у основи бави:

- А саобраћајем
- Б територијама
- В уређењем и организацијом насеља
- Г градском баштином
- Д становништвом

17. Кампус је:

- А урбана полиција
- Б сеоска самозаштита
- В туристичка дестинација
- Г место студентског становања и рада
- Д грчки град

18. Како се зове најпрестижнија награда за архитектуру у свету?

- А Ага Кан
- Б Златни лав
- В Прицкер
- Г Греми
- Д Златни медвед

19. Изохипсе су:

- А системи меридијана и паралела
- Б карте различитих територија
- В линије које повезују тачке исте надморске висине
- Г графички прикази удаљености топонима
- Д линије саобраћаја

20. Хиландар се налази на:

- А Пелопонезу
- Б Криту
- В Крфу
- Г Атосу
- Д Родосу

21. Богородична црква у Студеници је задужбина:

- А Стефана Првовенчаног
- Б Краља Милутина
- В Царице Милице
- Г Светог Саве
- Д Стефана Немање

22. Felix Romuliana је:

- А палата у Дубровнику
- Б археолошко налазиште у близини Зајечара
- В Фидијина скулптура
- Г средњовековни град у Србији
- Д начин зидања

23. Хамами су:

- А јавна купатила на средњем истоку
- Б старогрчке управне зграде
- В апсане-затвори
- Г античка купатила
- Д просторије у месопотамским палатама

24. Капител је:

- А украсни елемент кружног облика
- Б горњи део стуба
- В део темеља
- Г завршни део крова
- Д декоративна облога око прозора

25. Шиндра је:

- А Врста античког храма
- Б Лук на трему
- В Врста кровног покривача
- Г Врста материјала за зидање
- Д Камен за израду мозаика

26. Гугенхајмов музеј модерне уметности у Билбаоу је дело ког архитекте:

- А Антониа Гаудија
- Б Сантјага Калатраве
- В Корбизијеа
- Г Френк Лојд Рајта
- Д Френка Герија

27. Велике пирамиде из Гизе носе називе:

- А Кеопсова, Тутмесова и Кефренова
- Б Рамзесова, Кеопсова и Кефренова
- В Кеопсова, Кефренова и Микериносова
- Г Кеопсова, Микериносова и Тутанкамонова
- Д Рамзесова, Сетова и Микериносова

28. Који период у праисторији се назива палеолит?

- А Средње камено доба
- Б Доба гвожђа
- В Млађе камено доба
- Г Бронзано доба
- Д Старије камено доба

29. Ко је дешифровао египатске хијероглифе?

- А Еванс
- Б Шамполион
- В Страбон
- Г Картер
- Д Белзони

30. Минотаур је митолошко биће:

- А Полу бик полу човек
- Б Полу јарац полу човек
- В Полу човек полу коњ
- Г Ватрена птица
- Д Крилати коњ

31. По грчкој митологији врховни бог је Зевс. Који је његов пандан у римској митологији ?

- А Јупитер
- Б Марс
- В Меркур
- Г Аполон
- Д Уран

32. Баухаус је почетком XX века у Немачкој основао:

- А Алвар Алто
- Б Тадао Андо
- В Кензо Танге
- Г Ле Корбизије
- Д Валтер Гропијус

33. Шта је некропола:

- А Централно уређен град
- Б Етрурски град
- В Комплекс гробница
- Г Врста глине
- Д Део конструкције крова

34. Које године је донет Милански едикт, којим је проглашена верска равноправност и престанак прогона хришћана?

- А 313. године
- Б 315. године
- В 331. године
- Г 113. године
- Д 131. године

35. Које језеро у Азији је изгубило више од 80% запремине воде због наводњавања?

- А Аралско језеро
- Б Каспијско језеро
- В Бајкалско језеро
- Г Језеро Мичиген
- Д Језеро Тангањика

36. Основне боје (боје првог реда) су:

- А Црвена, зелена и жута
- Б Наранџаста, зелена и жута
- В Плава, зелена и жута
- Г Црвена, плава и зелена
- Д Црвена, плава и жута

37. Један појам са списка није основна физичка величина. Који?

- А Дужина
- Б Брзина
- В Време
- Г Јачина струје
- Д Маса

38. Набројане су битке: која од њих се није одиграла у Другом светском рату?

- А Битка на Неретви
- Б Битка на Сутјесци
- В Битка на Козари
- Г Битка на Кадињачи
- Д Колубарска битка

39. Ректор је :

- А Човек који руководи факултетом
- Б Човек који руководи Универзитетом
- В Стручњак који побољшава изражавање у рукопису за штампу
- Г Човек који исправља словне или графичке грешке пре штампе
- Д Уредник часописа

40. Шта је рецензија:

- А Забрана јавног изражавања мишљења
- Б Језичка и стилска интервенција на тексту
- В Критичка оцена неког научног или уметничког дела
- Г Припремање текста за штампу
- Д Компоновање

41. Питагорина теорема се односи на везу између:

- А Три странице једнакокраког троугла
- Б Централног угла и дужине кружног лука
- В Две суседне странице правоугаоника
- Г Површине кружног одсечка и централног угла
- Д Три странице правоуглог троугла

42. Које од наведених геометријских тела није правилни полиедар?

- А Октаедар
- Б Тетраедар
- В Додекаедар
- Г Тространа призма
- Д Коцка

43. Колико један ПИКО метар (Pm) има метара :

- А 10^{-12} m
- Б 10^{-9} m
- В 10^{12} m
- Г 10^9 m
- Д 10^{-6} m

44. Новозаветни јеванђељисти су:

- А Марко, Матеј, Јован и Лука
- Б Марко, Лука, Сава и Стефан
- В Јован, Сава, Лука и Стефан
- Г Матеј, Лука, Стефан, Милош
- Д Јован, Лука, Милош, Сава

45. Далај Лама је верски и политички вођа народа:

- А Мијанмара
- Б Лаоса
- В Тибета
- Г Тајвана
- Д Монголије

46. Алтруизам је:

- А брига за добробит других
- Б иронично обраћање
- В емотивно потискивање
- Г себично понашање
- Д дечија болест

47. Брајевом азбуком служе се:

- А глуви
- Б глувонеми
- В неми
- Г особе са посебним потребама
- Д слепи

48. Маслинову гранчицу, као симбол мира, у кљуну носи:

- А врабац
- Б соко
- В орао
- Г славуј
- Д голуб

49. „Мокрањчеви дани“ је музичка манифестација која се одржава у:

- А Аранђеловцу
- Б Параћину
- В Шапцу
- Г Неготину
- Д Нишу

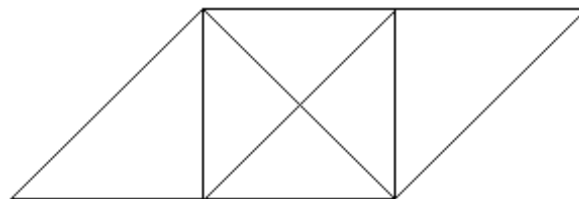
50. Оснивач листа „Политика“ била је породица:

- А Рибникар
- Б Гарашанин
- В Хаџи Антонијевић
- Г Рибар
- Д Барух

51. Велики број споменика и некропола на простору бивше Југославије осмислио је архитекта:

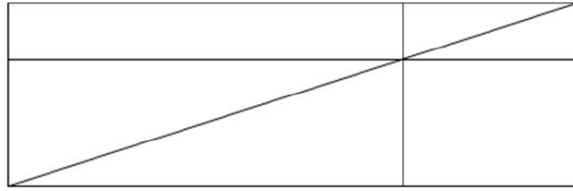
- А Александар Дероко
- Б Богдан Богдановић
- В Никола Несторовић
- Г Драгиша Брашован
- Д Иван Антић

52. Колико троуглова постоји на следећој слици?



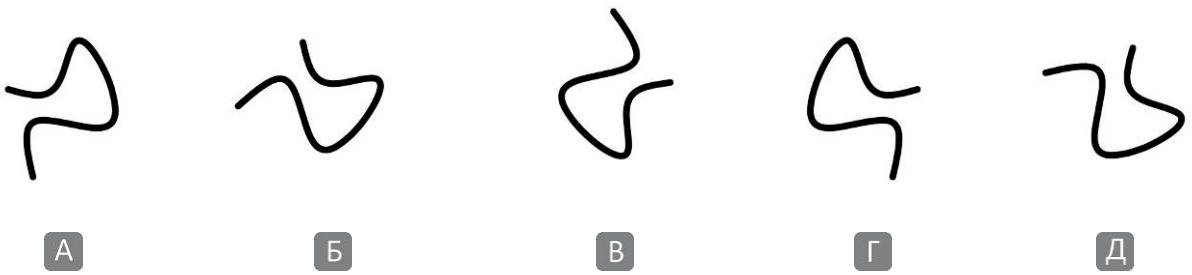
- А осам
- Б десет
- В дванаест
- Г четрнаест
- Д шеснаест

53. Колико четвороуглова постоји на следећој слици:

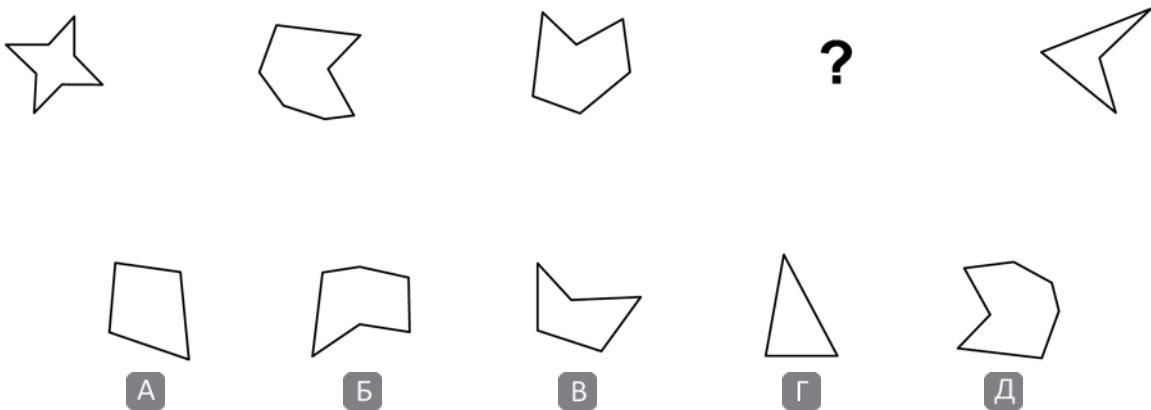


- А шест
- Б шеснаест
- В тринаест
- Г дванаест
- Д четрнаест


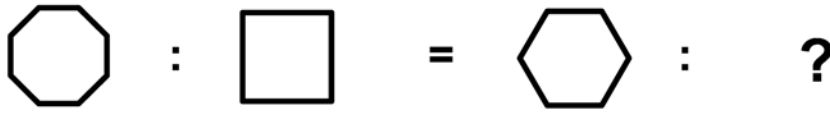
54. Пронаћи фигуру која не припада датом скупу:



55. Означити фигуру која припада датом низу:



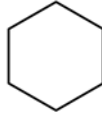
56. Означити одговарајућу фигуру:



А



Б



В



Г

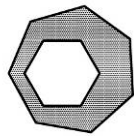


Д

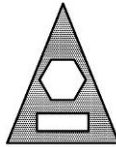
57. Пронаћи фигуру која не припада датом скупу:



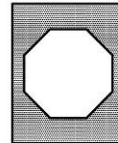
А




Б



В

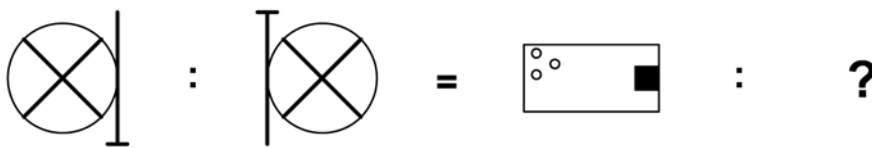


Г



Д

58. Означити одговарајућу фигуру:



А



Б



В

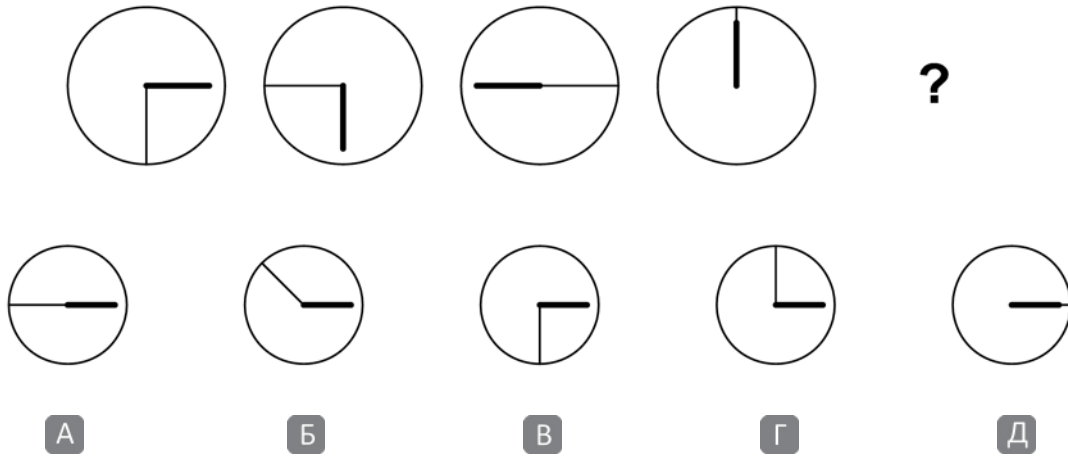


Г

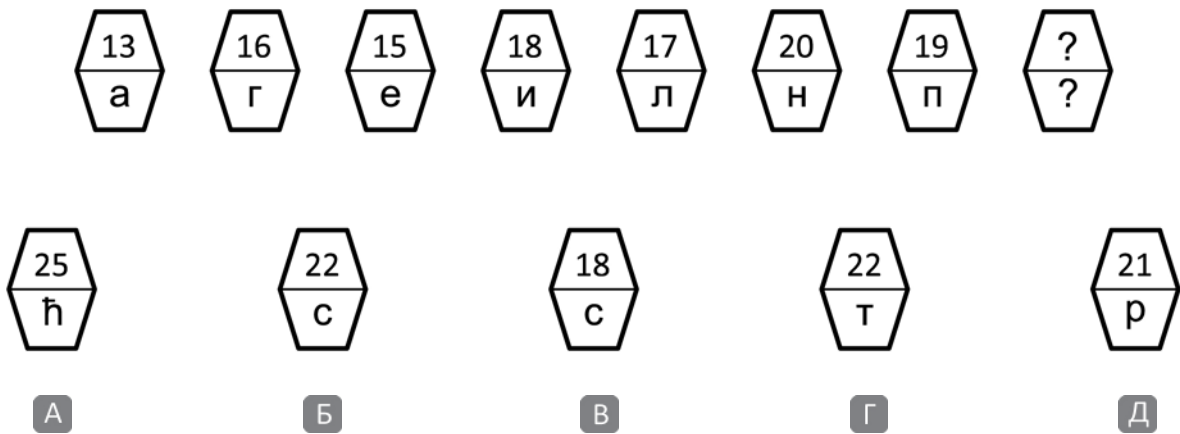


Д

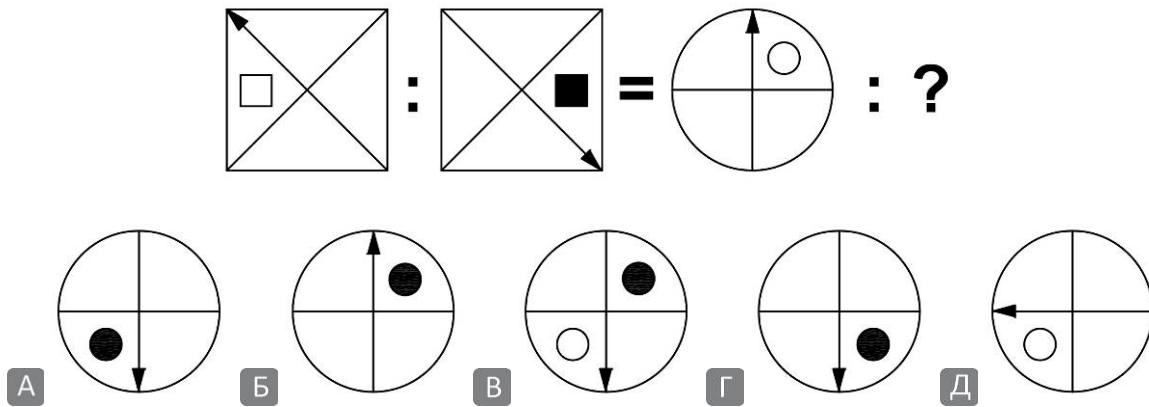
59. Одредити следећу фигуру низа:



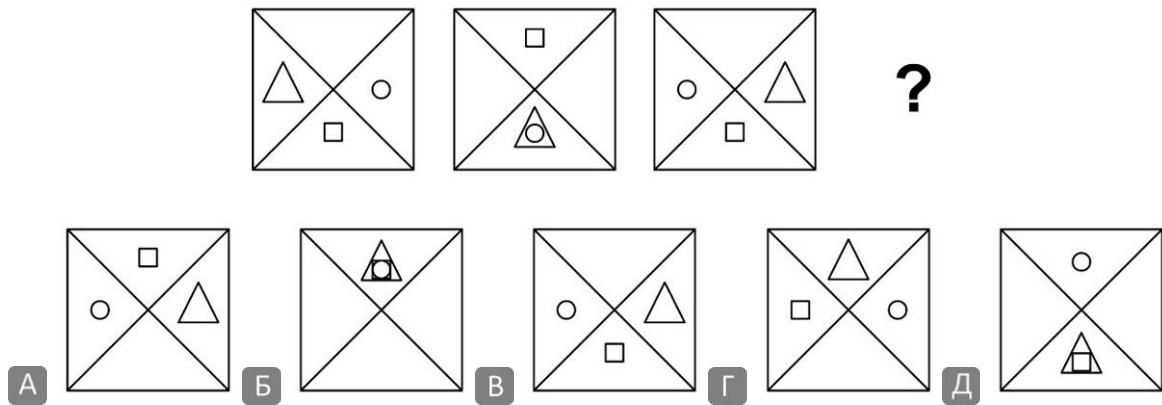
60. Наставити низ:



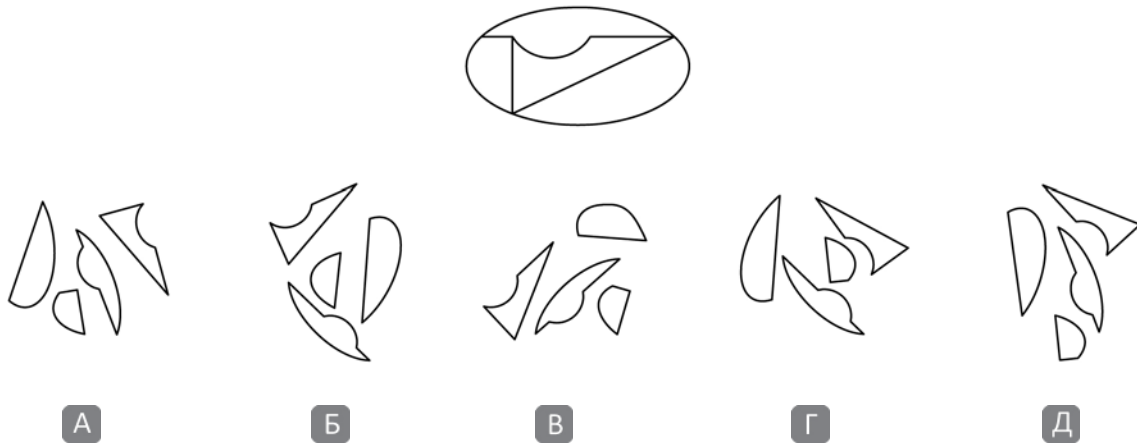
61. Означити одговарајућу фигуру:



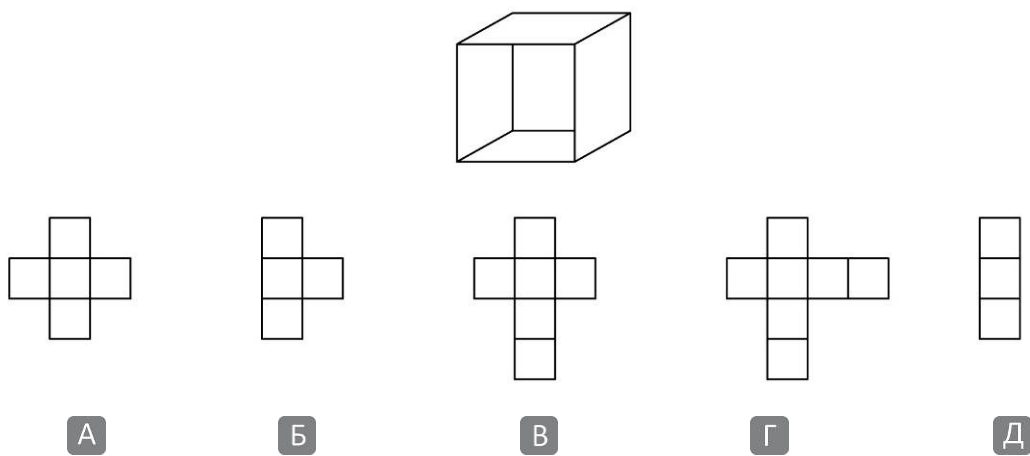
62. Наставити низ:



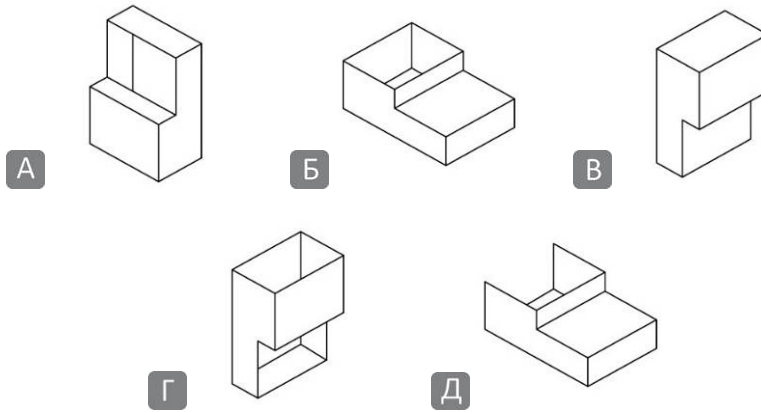
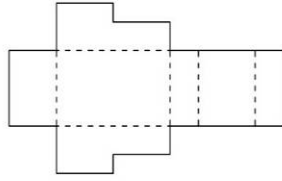
63. Означити склоп делова чија комбинација одговара датој фигури:



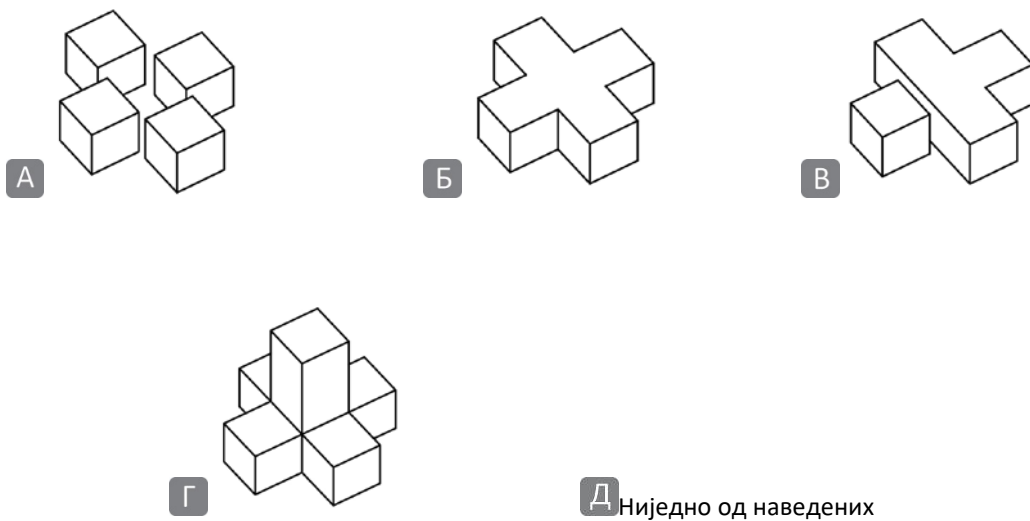
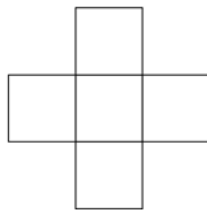
64. Пронаћи развијени омотач датог геометријског тела:



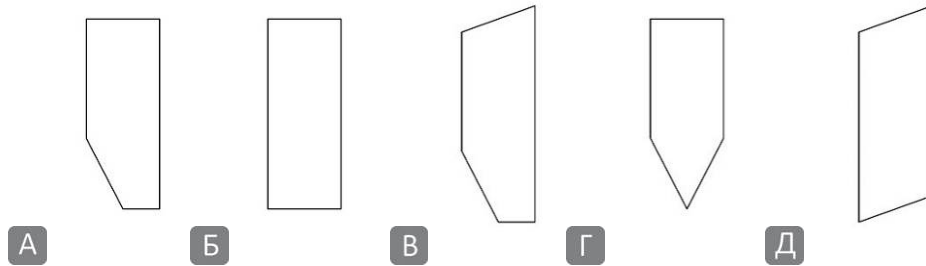
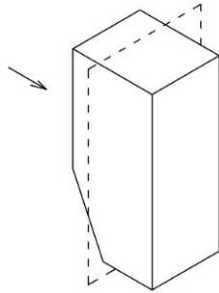
65. Идентификовати геометријско тело које одговара развијеном омотачу:



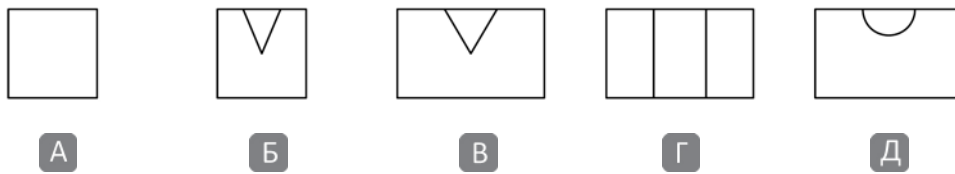
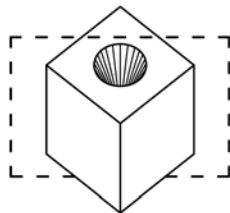
66. Идентификовати геометријско тело које одговара приказаној основи (поглед одозго).



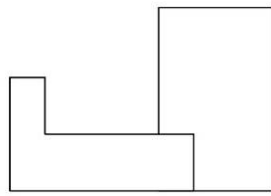
67. Препознати пресек кроз приказано геометријско тело:



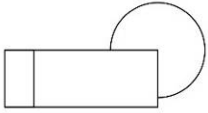
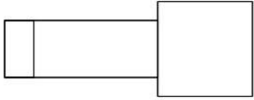
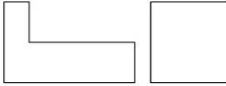
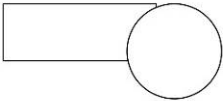
68. Препознати пресек кроз приказано геометријско тело:



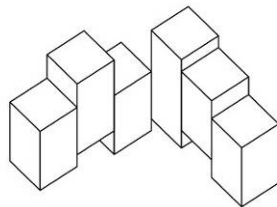
69. Идентификовати цртеж основе (поглед одозго) који одговара датом изгледу:

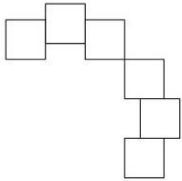
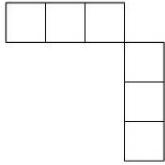
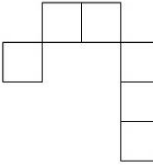
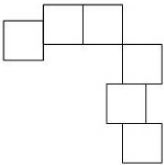
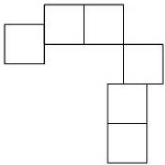


ИЗГЛЕД

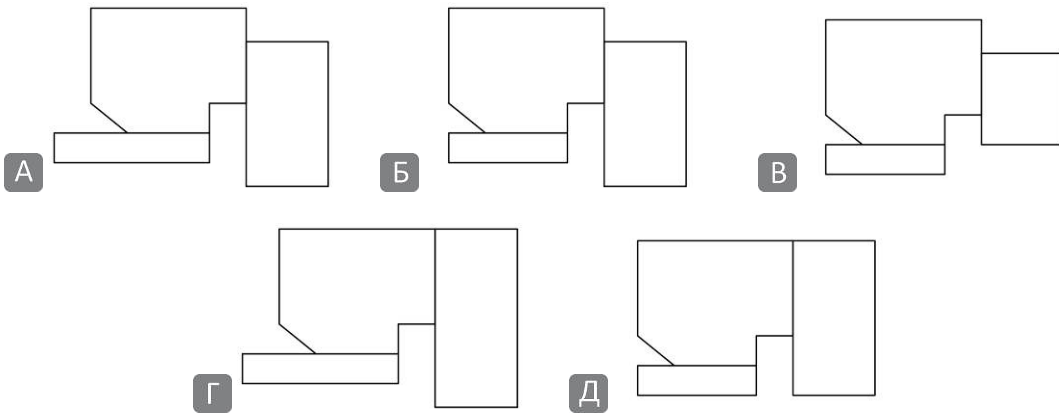
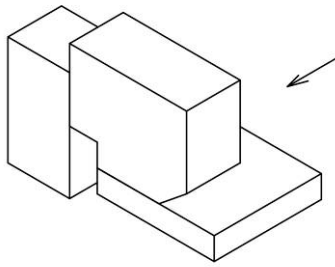
- А 
Б 
В 
- Г 
Д Ниједан од наведених

70. Фигура у прилогу је аксонометријски приказ групе паралелоипеда. Која од предложених поставки одговара композицији?

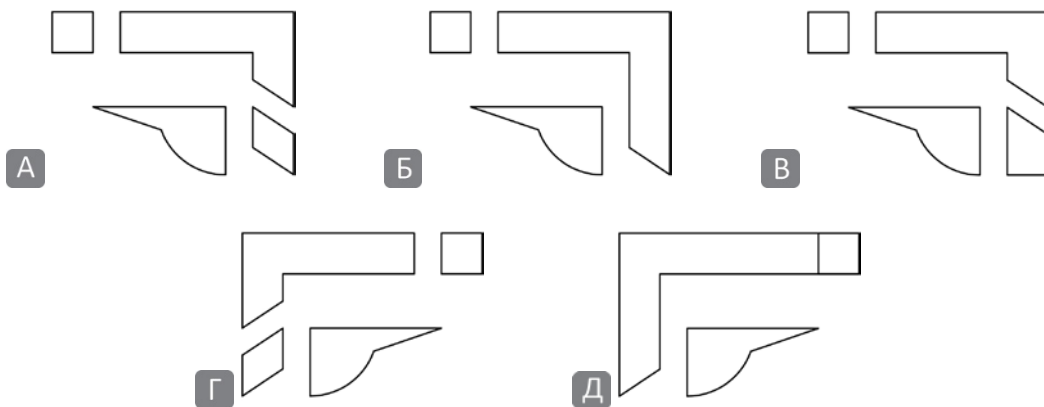
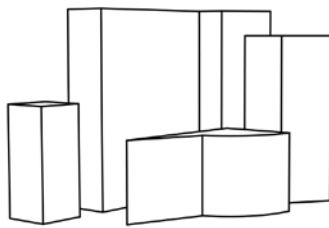


- А 
Б 
В 
- Г 
Д 

71. У прилогу је аксонометријски приказ фигуре, одредити њен изглед:



72. Идентификовати цртеж основе перспективног приказа задате композиције.



ЛИСТ ЗА ОДГОВОРЕ

Образац **ЛО**

ОДГОВОРИ:																	
	А	Б	В	Г	Д		А	Б	В	Г	Д		А	Б	В	Г	Д
1	<input checked="" type="checkbox"/>	<input type="checkbox"/>	<input type="checkbox"/>	<input type="checkbox"/>	<input type="checkbox"/>	25	<input type="checkbox"/>	<input type="checkbox"/>	<input checked="" type="checkbox"/>	<input type="checkbox"/>	<input type="checkbox"/>	49	<input type="checkbox"/>	<input type="checkbox"/>	<input type="checkbox"/>	<input checked="" type="checkbox"/>	<input type="checkbox"/>
2	<input type="checkbox"/>	<input type="checkbox"/>	<input type="checkbox"/>	<input checked="" type="checkbox"/>	<input type="checkbox"/>	26	<input type="checkbox"/>	<input type="checkbox"/>	<input type="checkbox"/>	<input type="checkbox"/>	<input checked="" type="checkbox"/>	50	<input checked="" type="checkbox"/>	<input type="checkbox"/>	<input type="checkbox"/>	<input type="checkbox"/>	<input type="checkbox"/>
3	<input type="checkbox"/>	<input checked="" type="checkbox"/>	<input type="checkbox"/>	<input type="checkbox"/>	<input type="checkbox"/>	27	<input type="checkbox"/>	<input type="checkbox"/>	<input checked="" type="checkbox"/>	<input type="checkbox"/>	<input type="checkbox"/>	51	<input type="checkbox"/>	<input checked="" type="checkbox"/>	<input type="checkbox"/>	<input type="checkbox"/>	<input type="checkbox"/>
4	<input checked="" type="checkbox"/>	<input type="checkbox"/>	<input type="checkbox"/>	<input type="checkbox"/>	<input type="checkbox"/>	28	<input type="checkbox"/>	<input type="checkbox"/>	<input type="checkbox"/>	<input type="checkbox"/>	<input checked="" type="checkbox"/>	52	<input type="checkbox"/>	<input type="checkbox"/>	<input checked="" type="checkbox"/>	<input type="checkbox"/>	<input type="checkbox"/>
5	<input type="checkbox"/>	<input type="checkbox"/>	<input checked="" type="checkbox"/>	<input type="checkbox"/>	<input type="checkbox"/>	29	<input type="checkbox"/>	<input checked="" type="checkbox"/>	<input type="checkbox"/>	<input type="checkbox"/>	<input type="checkbox"/>	53	<input type="checkbox"/>	<input type="checkbox"/>	<input checked="" type="checkbox"/>	<input type="checkbox"/>	<input type="checkbox"/>
6	<input type="checkbox"/>	<input type="checkbox"/>	<input type="checkbox"/>	<input checked="" type="checkbox"/>	<input type="checkbox"/>	30	<input checked="" type="checkbox"/>	<input type="checkbox"/>	<input type="checkbox"/>	<input type="checkbox"/>	<input type="checkbox"/>	54	<input type="checkbox"/>	<input type="checkbox"/>	<input type="checkbox"/>	<input checked="" type="checkbox"/>	<input type="checkbox"/>
7	<input type="checkbox"/>	<input checked="" type="checkbox"/>	<input type="checkbox"/>	<input type="checkbox"/>	<input type="checkbox"/>	31	<input checked="" type="checkbox"/>	<input type="checkbox"/>	<input type="checkbox"/>	<input type="checkbox"/>	<input type="checkbox"/>	55	<input type="checkbox"/>	<input type="checkbox"/>	<input checked="" type="checkbox"/>	<input type="checkbox"/>	<input type="checkbox"/>
8	<input type="checkbox"/>	<input type="checkbox"/>	<input type="checkbox"/>	<input checked="" type="checkbox"/>	<input type="checkbox"/>	32	<input type="checkbox"/>	<input type="checkbox"/>	<input type="checkbox"/>	<input type="checkbox"/>	<input checked="" type="checkbox"/>	56	<input type="checkbox"/>	<input type="checkbox"/>	<input type="checkbox"/>	<input checked="" type="checkbox"/>	<input type="checkbox"/>
9	<input checked="" type="checkbox"/>	<input type="checkbox"/>	<input type="checkbox"/>	<input type="checkbox"/>	<input type="checkbox"/>	33	<input type="checkbox"/>	<input type="checkbox"/>	<input checked="" type="checkbox"/>	<input type="checkbox"/>	<input type="checkbox"/>	57	<input type="checkbox"/>	<input type="checkbox"/>	<input type="checkbox"/>	<input checked="" type="checkbox"/>	<input type="checkbox"/>
10	<input type="checkbox"/>	<input type="checkbox"/>	<input checked="" type="checkbox"/>	<input type="checkbox"/>	<input type="checkbox"/>	34	<input checked="" type="checkbox"/>	<input type="checkbox"/>	<input type="checkbox"/>	<input type="checkbox"/>	<input type="checkbox"/>	58	<input type="checkbox"/>	<input type="checkbox"/>	<input checked="" type="checkbox"/>	<input type="checkbox"/>	<input type="checkbox"/>
11	<input type="checkbox"/>	<input type="checkbox"/>	<input type="checkbox"/>	<input type="checkbox"/>	<input checked="" type="checkbox"/>	35	<input checked="" type="checkbox"/>	<input type="checkbox"/>	<input type="checkbox"/>	<input type="checkbox"/>	<input type="checkbox"/>	59	<input type="checkbox"/>	<input type="checkbox"/>	<input type="checkbox"/>	<input checked="" type="checkbox"/>	<input type="checkbox"/>
12	<input checked="" type="checkbox"/>	<input type="checkbox"/>	<input type="checkbox"/>	<input type="checkbox"/>	<input type="checkbox"/>	36	<input type="checkbox"/>	<input type="checkbox"/>	<input type="checkbox"/>	<input type="checkbox"/>	<input checked="" type="checkbox"/>	60	<input type="checkbox"/>	<input type="checkbox"/>	<input type="checkbox"/>	<input checked="" type="checkbox"/>	<input type="checkbox"/>
13	<input checked="" type="checkbox"/>	<input type="checkbox"/>	<input type="checkbox"/>	<input type="checkbox"/>	<input type="checkbox"/>	37	<input type="checkbox"/>	<input checked="" type="checkbox"/>	<input type="checkbox"/>	<input type="checkbox"/>	<input type="checkbox"/>	61	<input checked="" type="checkbox"/>	<input type="checkbox"/>	<input type="checkbox"/>	<input type="checkbox"/>	<input type="checkbox"/>
14	<input checked="" type="checkbox"/>	<input type="checkbox"/>	<input type="checkbox"/>	<input type="checkbox"/>	<input type="checkbox"/>	38	<input type="checkbox"/>	<input type="checkbox"/>	<input type="checkbox"/>	<input type="checkbox"/>	<input checked="" type="checkbox"/>	62	<input type="checkbox"/>	<input checked="" type="checkbox"/>	<input type="checkbox"/>	<input type="checkbox"/>	<input type="checkbox"/>
15	<input checked="" type="checkbox"/>	<input type="checkbox"/>	<input type="checkbox"/>	<input type="checkbox"/>	<input type="checkbox"/>	39	<input type="checkbox"/>	<input checked="" type="checkbox"/>	<input type="checkbox"/>	<input type="checkbox"/>	<input type="checkbox"/>	63	<input type="checkbox"/>	<input type="checkbox"/>	<input type="checkbox"/>	<input checked="" type="checkbox"/>	<input type="checkbox"/>
16	<input type="checkbox"/>	<input type="checkbox"/>	<input checked="" type="checkbox"/>	<input type="checkbox"/>	<input type="checkbox"/>	40	<input type="checkbox"/>	<input type="checkbox"/>	<input checked="" type="checkbox"/>	<input type="checkbox"/>	<input type="checkbox"/>	64	<input checked="" type="checkbox"/>	<input type="checkbox"/>	<input type="checkbox"/>	<input type="checkbox"/>	<input type="checkbox"/>
17	<input type="checkbox"/>	<input type="checkbox"/>	<input type="checkbox"/>	<input checked="" type="checkbox"/>	<input type="checkbox"/>	41	<input type="checkbox"/>	<input type="checkbox"/>	<input type="checkbox"/>	<input type="checkbox"/>	<input checked="" type="checkbox"/>	65	<input type="checkbox"/>	<input checked="" type="checkbox"/>	<input type="checkbox"/>	<input type="checkbox"/>	<input type="checkbox"/>
18	<input type="checkbox"/>	<input type="checkbox"/>	<input checked="" type="checkbox"/>	<input type="checkbox"/>	<input type="checkbox"/>	42	<input type="checkbox"/>	<input type="checkbox"/>	<input type="checkbox"/>	<input checked="" type="checkbox"/>	<input type="checkbox"/>	66	<input type="checkbox"/>	<input type="checkbox"/>	<input type="checkbox"/>	<input checked="" type="checkbox"/>	<input type="checkbox"/>
19	<input type="checkbox"/>	<input type="checkbox"/>	<input checked="" type="checkbox"/>	<input type="checkbox"/>	<input type="checkbox"/>	43	<input checked="" type="checkbox"/>	<input type="checkbox"/>	<input type="checkbox"/>	<input type="checkbox"/>	<input type="checkbox"/>	67	<input type="checkbox"/>	<input checked="" type="checkbox"/>	<input type="checkbox"/>	<input type="checkbox"/>	<input type="checkbox"/>
20	<input type="checkbox"/>	<input type="checkbox"/>	<input type="checkbox"/>	<input checked="" type="checkbox"/>	<input type="checkbox"/>	44	<input checked="" type="checkbox"/>	<input type="checkbox"/>	<input type="checkbox"/>	<input type="checkbox"/>	<input type="checkbox"/>	68	<input type="checkbox"/>	<input type="checkbox"/>	<input checked="" type="checkbox"/>	<input type="checkbox"/>	<input type="checkbox"/>
21	<input type="checkbox"/>	<input type="checkbox"/>	<input type="checkbox"/>	<input type="checkbox"/>	<input checked="" type="checkbox"/>	45	<input type="checkbox"/>	<input type="checkbox"/>	<input checked="" type="checkbox"/>	<input type="checkbox"/>	<input type="checkbox"/>	69	<input type="checkbox"/>	<input type="checkbox"/>	<input type="checkbox"/>	<input type="checkbox"/>	<input checked="" type="checkbox"/>
22	<input type="checkbox"/>	<input checked="" type="checkbox"/>	<input type="checkbox"/>	<input type="checkbox"/>	<input type="checkbox"/>	46	<input checked="" type="checkbox"/>	<input type="checkbox"/>	<input type="checkbox"/>	<input type="checkbox"/>	<input type="checkbox"/>	70	<input type="checkbox"/>	<input checked="" type="checkbox"/>	<input type="checkbox"/>	<input type="checkbox"/>	<input type="checkbox"/>
23	<input checked="" type="checkbox"/>	<input type="checkbox"/>	<input type="checkbox"/>	<input type="checkbox"/>	<input type="checkbox"/>	47	<input type="checkbox"/>	<input type="checkbox"/>	<input type="checkbox"/>	<input type="checkbox"/>	<input checked="" type="checkbox"/>	71	<input checked="" type="checkbox"/>	<input type="checkbox"/>	<input type="checkbox"/>	<input type="checkbox"/>	<input type="checkbox"/>
24	<input type="checkbox"/>	<input checked="" type="checkbox"/>	<input type="checkbox"/>	<input type="checkbox"/>	<input type="checkbox"/>	48	<input type="checkbox"/>	<input type="checkbox"/>	<input type="checkbox"/>	<input type="checkbox"/>	<input checked="" type="checkbox"/>	72	<input checked="" type="checkbox"/>	<input type="checkbox"/>	<input type="checkbox"/>	<input type="checkbox"/>	<input type="checkbox"/>